

Utiliser une symétrie

Je m'entraîne

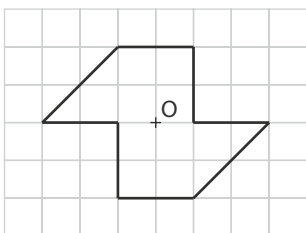
7 a. Les élèves ont représenté le symétrique du personnage par rapport à une droite, et non par rapport au point O.

b. Chaque bras et son symétrique devraient être parallèles.

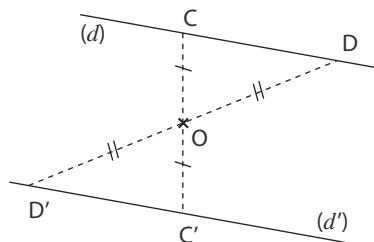
c. La figure semble correcte.

12 La figure n'admet pas d'axe de symétrie.

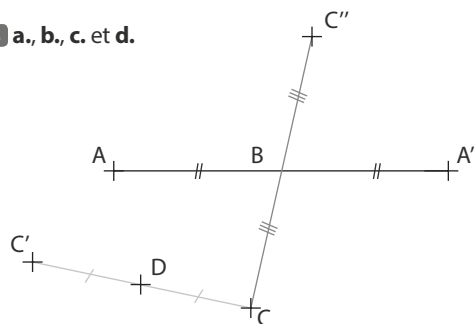
La figure admet un centre de symétrie : le point O.



b.



35 a., b., c. et d.



e. Le point B est le milieu du segment $[AA']$.

Le segment $[CC']$ a pour milieu le point D.

43 a.

